


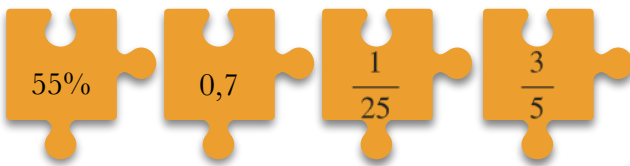
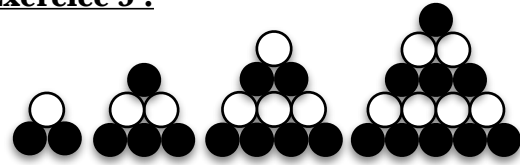
**Exercice 1 :**

Donner une écriture décimale de chaque quotient.

1. $\frac{1}{2}$ 2. $\frac{1}{4}$ 3. $\frac{1}{5}$ 4. $\frac{9}{2}$ 5. $\frac{9}{4}$ 6. $\frac{9}{5}$

Exercice 2 :

Associer les proportions égales.

**Exercice 3 :**

1. Exprimer la proportion de boules noires dans chaque pyramide.

2. Construire la pyramide suivante puis reprends la question 1. avec celle-ci.

Exercice 4 :

Quatre copains jouent au célèbre jeu de cartes UNO.

Ce jeu comporte :

- des cartes bleus, rouges, verts et jaunes numérotées (19 de chaque couleur)
- 36 cartes Action

1. Quelle proportion du nombre total de cartes représente chaque couleur ?

2. Quelle proportion représentent les cartes Action ?

3. Au début de la partie, on distribue 7 cartes à chaque joueur et on place le reste dans un paquet au centre de la table. Quelle proportion de cartes n'a pas été distribuée ?