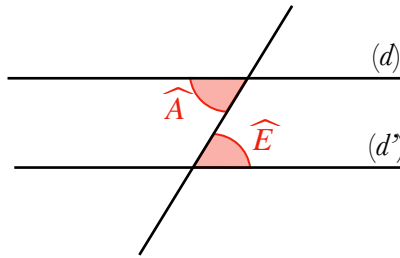
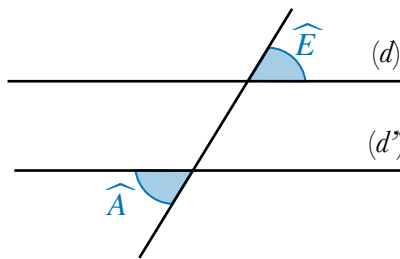


Angle et parallélisme

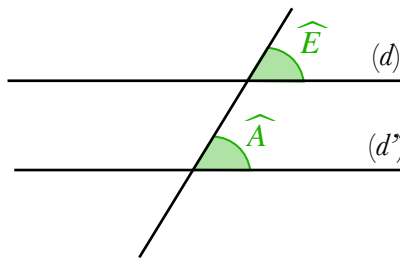
Angles alternes-internes



Angles alternes-externes



Angles correspondants



Si (d) et (d') sont parallèles et si les angles \widehat{A} et \widehat{E} sont ...

... alors \widehat{A} et \widehat{E} sont égaux

La réciproque est également vraie.