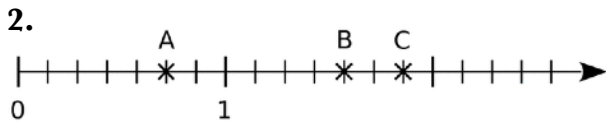
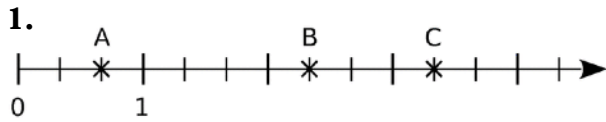


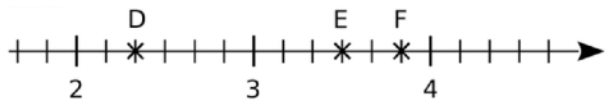
**Exercice 1 :**

Dans chaque cas, donne, sous forme d'une fraction, l'abscisse de chacun des points A, B et C placés sur la demi-droite graduée.

**Exercice 2 :**

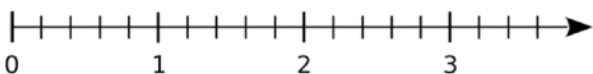
Observe cette demi-droite graduée. Recopie puis complète par une fraction.

$$D\left(2 + \frac{\dots}{\dots}\right) ; E\left(3 + \frac{\dots}{\dots}\right) ; F\left(3 + \frac{\dots}{\dots}\right)$$

**Exercice 3 :**

Reproduire les demi-droites puis placer les points indiqués sur chaque d'elles.

1. $D\left(\frac{2}{5}\right)$, $E\left(\frac{8}{5}\right)$ et $F\left(\frac{14}{5}\right)$



2. $A\left(\frac{2}{3}\right)$, $B\left(\frac{5}{3}\right)$ et $C\left(\frac{9}{3}\right)$

