

**Partie 1:**

1. Sur quelles figures a-t-on colorié le quart de la surface ?




figure 1

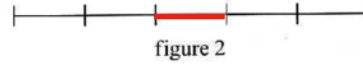


figure 2

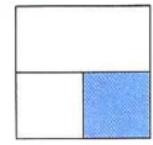


figure 3



figure 4

2. Sur quelles figures a-t-on colorié les deux tiers de la surface ?

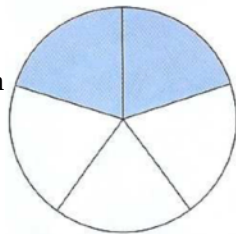


figure 5




figure 6

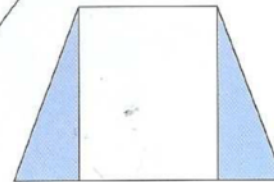


figure 7

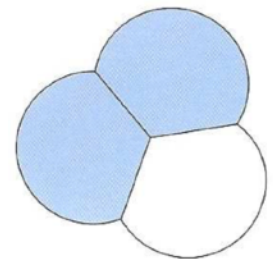


figure 8

3. Quelle fraction des fleurs de ce bouquet représentent les fleurs rouges ?

**Partie 2 :**

1. Dans la classe donne la fraction représentant une rangée par rapport à l'ensemble des rangées ?
2. Dans la classe donne la fraction représentant une table par rapport à l'ensemble des tables ?
3. Dans la classe donne la fraction représentant les garçons par rapport à l'ensemble des élèves ?
4. Dans la classe donne la fraction représentant les filles par rapport à l'ensemble des élèves ?