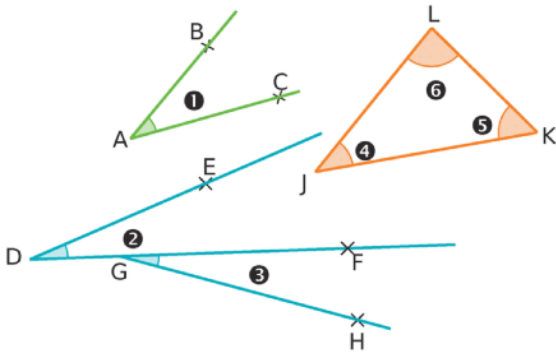




## Chapitre 7 : Angles Savoir faire 1 : Vocabulaire

### Exercice 1 :

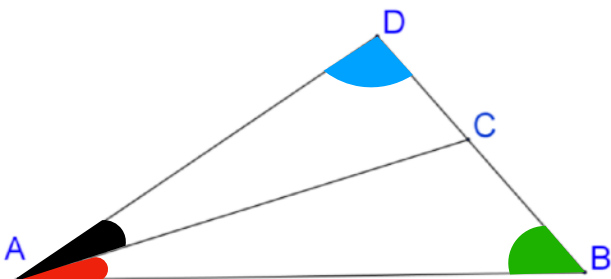
Utilise les figures pour compléter le tableau.



Angle	Nom	Sommet	Côtés
❶	$\widehat{BAC}$	A	[AB) et [AC)
❷	$\widehat{EDG}$	D	[DE) et [DG)
❸	$\widehat{FGH}$	G	[GF) et [GH)
❹	$\widehat{LJK}$	J	[JL) et [JK)
❺	$\widehat{JKL}$	K	[KJ) et [KL)
❻	$\widehat{KLJ}$	L	[LK) et [LJ)

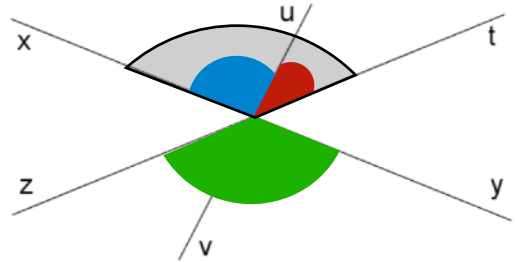
### Exercice 2 :

- Marquer en **bleu** l'angle  $\widehat{CDA}$
- Marquer en **rouge** l'angle  $\widehat{BAC}$
- Marquer en **vert** l'angle  $\widehat{DBA}$
- Marquer en **noir** l'angle  $\widehat{CAD}$



### Exercice 3 :

- Marquer en **bleu** l'angle  $\widehat{xOu}$
- Marquer en **rouge** l'angle  $\widehat{uOt}$
- Marquer en **vert** l'angle  $\widehat{yOz}$
- Marquer en **noir** l'angle  $\widehat{xOt}$



### Exercice 4 :

Relier par un trait les noms qui désignent le même angle sur la figure.

