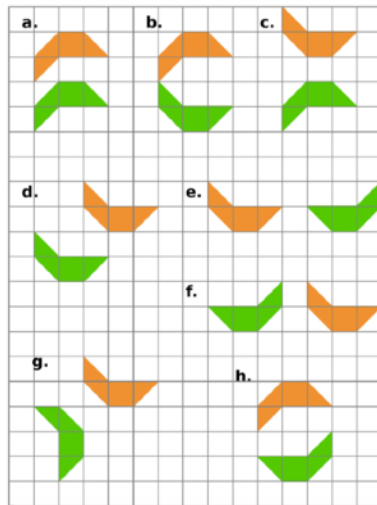


Chapitre 13 : Les transformations
Savoir faire 1 : Symétrie axiale



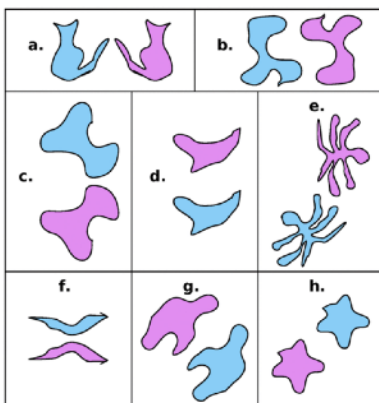
Exercice 1 :

Dans chaque cas indique si les figures vertes et orange sont symétriques par rapport à une droite.



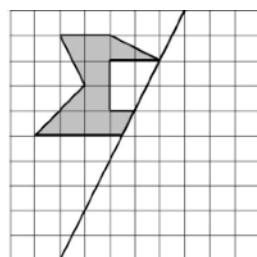
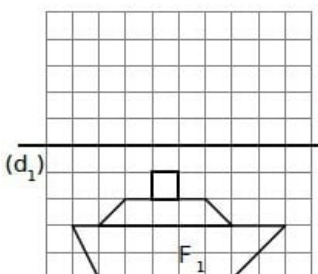
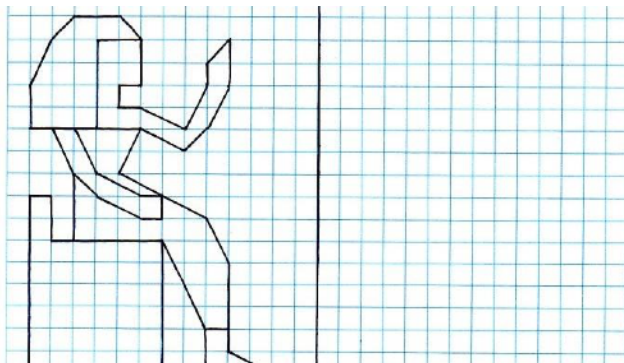
Exercice 2 :

Dans chaque cas indique si les figures sont symétriques par rapport à une droite.



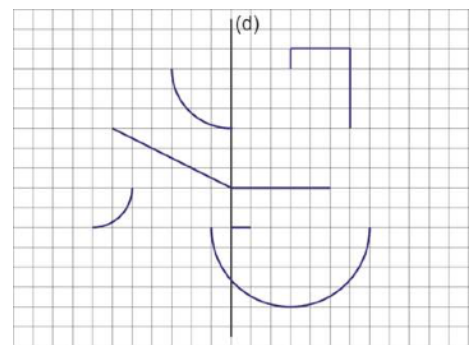
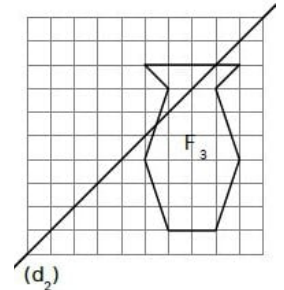
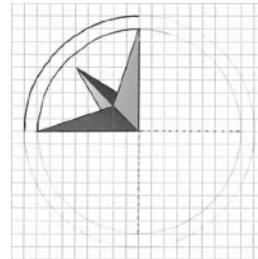
Exercice 3 :

Trace le symétrique de la figure par rapport à la droite.



Exercice 4 :

Trace le symétrique de la figure par rapport à la droite.



Exercice 5 :

Tracer le symétrique de la figure par rapport à la droite en laissant les traits de construction.

