

Vers -200



LA NUMÉRATION CHINOISE




1 Observer chaque écriture des six nombres ci-dessous. D'après toi, comment fonctionnait le système de numération chinoise ?



5

6

26



72


314

794



2

Ecrire les nombres suivants dans le système chinois.



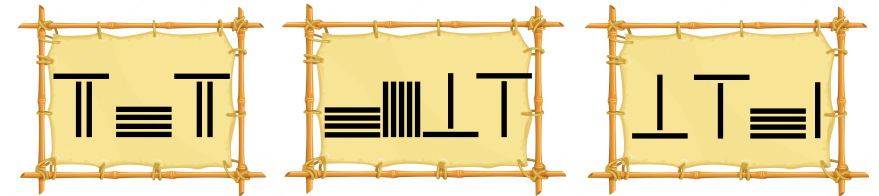
59

127

1043


3

Ecrire les nombres suivants avec les chiffres modernes.



BONUS

Ton année de naissance



JOUR

MOIS

ANNÉE