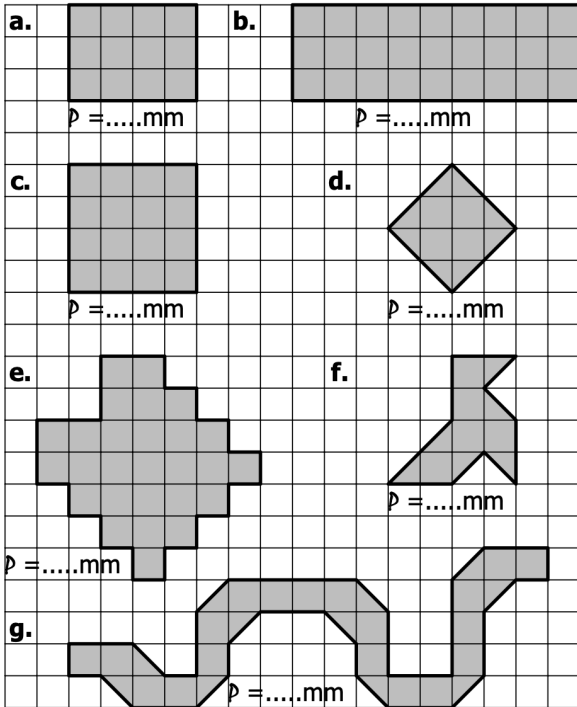




**Chapitre 13 : Périmètre et aire**  
**Savoir faire 1 : Périmètre**

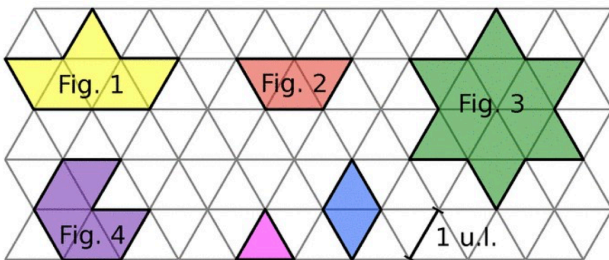
**Exercice 1 :** Réussi

Sachant que chaque carreau mesure 5 mm de large, et environ 7 mm de diagonale, calculer le périmètre des figures suivantes:



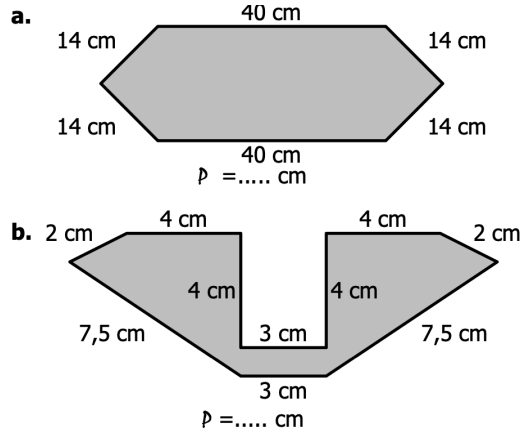
**Exercice 2 :** Réussi

Déterminer le périmètre de chaque figure exprimé en unités de longueur.



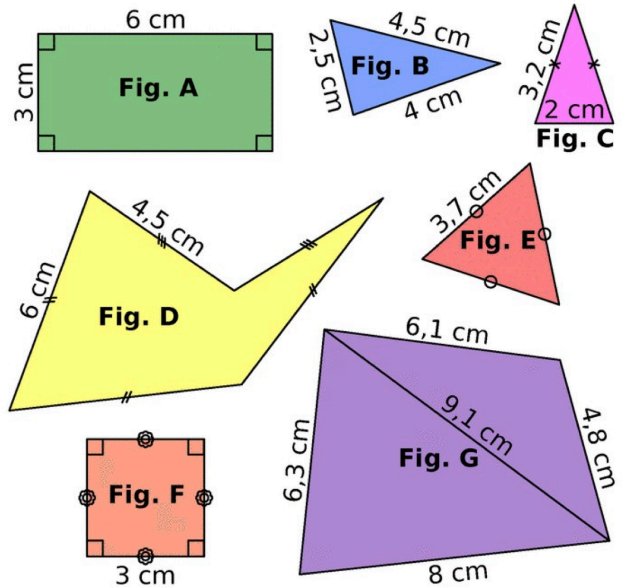
**Exercice 3 :** Réussi

Calculer le périmètre des figures suivantes :



**Exercice 4 :** Réussi

Calculer le périmètre de chaque figure.



**Exercice 5 :** Réussi

Calcule la longueur des cercles suivants. Tu donneras la valeur exacte puis une valeur approchée au centième près.

