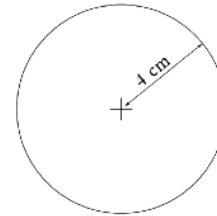
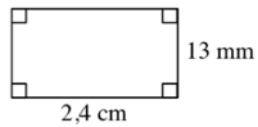
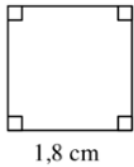


**Exercice 1 :**

Calculer l'aire des figures ci-dessous.



Il suffit d'appliquer la bonne formule du cours GM2 en remplaçant par les valeurs.

Exercice 2 :

Convertir en m^2

$$4,572 \text{ km}^2 = \dots\dots\dots$$

$$39\ 000 \text{ cm}^2 = \dots\dots\dots$$

$$56\ 000 \text{ dm}^2 = \dots\dots\dots$$

$$47\ 834 \text{ dm}^2 = \dots\dots\dots$$

$$80,7 \text{ hm}^2 = \dots\dots\dots$$

$$23,08 \text{ dam}^2 = \dots\dots\dots$$

On peut utiliser le tableau de la fiche GM1.