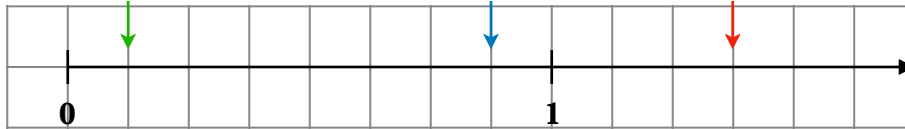


## Exo commun 2

## Chapitre 1 : Ecriture fractionnaire (1)

**Exercice :**

1. Indiquer les nombres, sous la forme d'une fraction, désignés par les flèches sur la demi-droite graduée ci-dessous.



2. Placer les nombres suivants sur la demi-droite.

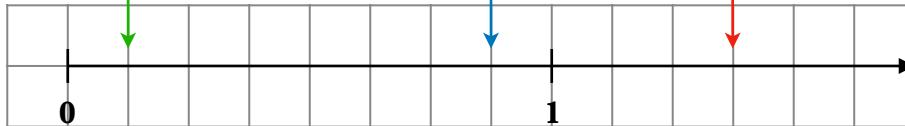
$$\bullet \frac{1}{4} \quad \bullet \frac{3}{4} \quad \bullet \frac{1}{2} \quad \bullet \frac{3}{2}$$

## Exo commun 2

## Chapitre 1 : Ecriture fractionnaire (1)

**Exercice :**

1. Indiquer les nombres, sous la forme d'une fraction, désignés par les flèches sur la demi-droite graduée ci-dessous.



2. Placer les nombres suivants sur la demi-droite.

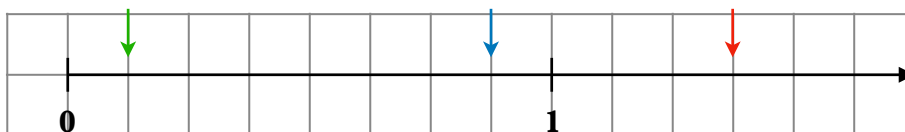
$$\bullet \frac{1}{4} \quad \bullet \frac{3}{4} \quad \bullet \frac{1}{2} \quad \bullet \frac{3}{2}$$

## Exo commun 2

## Chapitre 1 : Ecriture fractionnaire (1)

**Exercice :**

1. Indiquer les nombres, sous la forme d'une fraction, désignés par les flèches sur la demi-droite graduée ci-dessous.



2. Placer les nombres suivants sur la demi-droite.

$$\bullet \frac{1}{4} \quad \bullet \frac{3}{4} \quad \bullet \frac{1}{2} \quad \bullet \frac{3}{2}$$